


Муниципальное бюджетное образовательное учреждение “Приреченская СОШ”

«Согласовано»

Болдырева /И.А.Болдырева/

Заместитель директора по УВР

«26» июня 2021 г.



«Утверждено»

Микичур /Л.Н.Микичур

Директор МБОУ «Приреченская СОШ»

Приказ № 164-ос
«18» августа 2021 г

**Рабочая программа учебного предмета
“Геометрия”
для 8 класса**

Составитель: Иряшова Л.И.
учитель математики

2021/2022 учебный год

ПОЯСНИТЕЛЬНАЯ ЗАПИСКА

Рабочая программа по геометрии для учащихся 8 класса разработана на основе Требований Федерального государственного образовательного стандарта основного общего образования, примерной программы основного общего образования по математике, авторской программы по 7-9 классы. Составитель: Бурмистрова Т.А., - М.: Просвещение, 2017 г. и ориентирована на использование учебника: Геометрия 7-9 классы: учебник для общеобразовательных учреждений. / Л.С. Атанасян, В.Ф. Бутузов, С.Б. Кадомцев, Э.Г.Позняк, И.И. Юдина. - М.: Просвещение, 2019.

ПЛАНИРУЕМЫЕ РЕЗУЛЬТАТЫ ОСВОЕНИЯ УЧЕБНОГО ПРЕДМЕТА

Программа обеспечивает достижения следующих результатов освоения образовательной программы основного общего образования:

личностные:

- формирование ответственного отношения к учению, готовности и способности обучающихся к саморазвитию и самообразованию на основе мотивации к обучению и познанию, выбору дальнейшего образования на базе ориентировки в мире профессий и профессиональных предпочтений, осознанному построению индивидуальной образовательной траектории с учетом устойчивых познавательных интересов;
- формирование целостного мировоззрения, соответствующего современному уровню развития науки и общественной практики;
- формирование коммуникативной компетентности в общении и сотрудничестве со сверстниками, старшими и младшими в образовательной, общественно полезной, учебно-исследовательской, творческой и других видах деятельности;
- умение ясно, точно, грамотно излагать свои мысли в устной и письменной речи, понимать смысл поставленной задачи, выстраивать аргументацию, приводить примеры и контрпримеры;
- критичность мышления, умение распознавать логически некорректные высказывания, отличать гипотезу от факта;
- креативность мышления, инициативу, находчивость, активность при решении геометрических задач;
- умение контролировать процесс и результат учебной математической деятельности;
- способность к эмоциональному восприятию математических объектов, задач, решений, рассуждений;

метапредметные:

регулятивные универсальные учебные действия:

- умение самостоятельно планировать альтернативные пути достижения целей, осознанно выбирать наиболее эффективные способы решения учебных и познавательных задач;
- умение осуществлять контроль по результату и способу действия на уровне произвольного внимания и вносить необходимые коррективы;
- умение адекватно оценивать правильность или ошибочность выполнения учебной задачи, ее объективную трудность и собственные возможности ее решения;
- понимание сущности алгоритмических предписаний и умение действовать в соответствии с предложенным алгоритмом;
- умение самостоятельно ставить цели, выбирать и создавать алгоритмы для решения учебных математических проблем;
- умение планировать и осуществлять деятельность, направленную на решение задач исследовательского характера;

познавательные универсальные учебные действия:

- осознанное владение логическими действиями определения понятий, обобщения, установления аналогий, классификации на основе самостоятельного выбора оснований и критериев, установления родовидовых связей;
- умение устанавливать причинно-следственные связи, строить логическое рассуждение, умозаключение (индуктивное, дедуктивное и по аналогии) и выводы;
- умение создавать, применять и преобразовывать знаково-символические средства, модели и схемы для решения учебных и познавательных задач;
- формирование и развитие учебной и общепользовательской компетентности в области использования информационно-коммуникационных технологий (ИКТ-компетентности);
- формирование первоначальных представлений об идеях и о методах математики как универсальном языке науки и техники, средстве моделирования явлений и процессов;
- умение видеть математическую задачу в контексте проблемной ситуации в других дисциплинах, в окружающей жизни;
- умение находить в различных источниках информацию, необходимую для решения математических проблем, и представлять ее в понятной форме; принимать решение в условиях неполной и избыточной, точной и вероятностной информации;
- умение понимать и использовать математические средства наглядности (рисунки, чертежи, схемы и др.) для иллюстрации, интерпретации, аргументации;
- умение выдвигать гипотезы при решении учебных задач и понимать необходимость их проверки;
- умение применять индуктивные и дедуктивные способы рассуждений, видеть различные стратегии решения задач;

коммуникативные универсальные учебные действия:

- умение организовывать учебное сотрудничество и совместную деятельность с учителем и сверстниками: определять цели, распределять функции и роли участников, общие способы работы;
- умение работать в группе: находить общее решение и разрешать конфликты на основе согласования позиций и учета интересов;
- слушать партнера;
- формулировать, аргументировать и отстаивать свое мнение;

предметные:

Предметным результатом изучения курса является сформированность следующих умений:

- пользоваться геометрическим языком для описания предметов окружающего мира;
- распознавать геометрические фигуры, различать их взаимное расположение;
- изображать геометрические фигуры; выполнять чертежи по условию задачи; осуществлять преобразования фигур;

- распознавать на чертежах, моделях и в окружающей обстановке основные пространственные тела, изображать их;
- в простейших случаях строить сечения и развертки пространственных тел;
- проводить операции над векторами, вычислять длину и координаты вектора, угол между векторами;
- вычислять значения геометрических величин (длин, углов, площадей, объемов); в том числе: для углов от 0 до 180° определять значения тригонометрических функций по заданным значениям углов; находить значения тригонометрических функций по значению одной из них, находить стороны, углы и вычислять площади треугольников, длины ломаных, дуг окружности, площадей основных геометрических фигур и фигур, составленных из них;
- решать геометрические задачи, опираясь на изученные свойства фигур и отношений между ними, применяя дополнительные построения, алгебраический и тригонометрический аппарат, правила симметрии;
- проводить доказательные рассуждения при решении задач, используя известные теоремы, обнаруживая возможности для их использования;
- решать простейшие планиметрические задачи в пространстве.

Использовать приобретенные знания и умения в практической деятельности и повседневной жизни для:

- описания реальных ситуаций на языке геометрии;
- расчетов, включающих простейшие тригонометрические формулы;
- решения геометрических задач с использованием тригонометрии;
- решения практических задач, связанных с нахождением геометрических величин (используя при необходимости справочники и технические средства);
- построений с помощью геометрических инструментов (линейка, угольник, циркуль, транспортир).

В результате изучения геометрии обучающийся **научится:**

Наглядная геометрия

- 1) распознавать на чертежах, рисунках, моделях и в окружающем мире плоские и пространственные геометрические фигуры;
- 2) распознавать развёртки куба, прямоугольного параллелепипеда;
- 3) определять по линейным размерам развёртки фигуры линейные размеры самой фигуры и наоборот;
- 4) вычислять объём прямоугольного параллелепипеда.

Обучающийся *получит возможность:*

- 5) *вычислять объёмы пространственных геометрических фигур, составленных из прямоугольных параллелепипедов;*
- 6) *углубить и развить представления о пространственных геометрических фигурах;*
- 7) *применять понятие развёртки для выполнения практических расчётов.*

Геометрические фигуры

Обучающийся научится:

- 1) пользоваться языком геометрии для описания предметов окружающего мира и их взаимного расположения;
- 2) распознавать и изображать на чертежах и рисунках геометрические фигуры и их конфигурации;
- 3) находить значения длин линейных элементов фигур и их отношения, градусную меру углов от 0 до 180° , применяя определения, свойства и признаки фигур и их элементов, отношения фигур (равенство, подобие, симметрии, поворот, параллельный перенос);
- 4) оперировать с начальными понятиями тригонометрии
и выполнять элементарные операции над функциями углов;
- 5) решать задачи на доказательство, опираясь на изученные свойства фигур и отношений между ними и применяя изученные методы доказательств;
- 6) решать несложные задачи на построение, применяя основные алгоритмы построения с помощью циркуля и линейки;
- 7) решать простейшие планиметрические задачи в пространстве.

Обучающийся *получит возможность:*

8) овладеть методами решения задач на вычисления и доказательства: методом от противного, методом подобия, методом перебора вариантов и методом геометрических мест точек;

9) приобрести опыт применения алгебраического и тригонометрического аппарата и идей движения при решении геометрических задач;

10) овладеть традиционной схемой решения задач на построение с помощью циркуля и линейки: анализ, построение, доказательство и исследование;

11) научиться решать задачи на построение методом геометрического места точек и методом подобия;

12) приобрести опыт исследования свойств планиметрических фигур с помощью компьютерных программ.

Измерение геометрических величин

Обучающийся научится:

1) использовать свойства измерения длин, площадей и углов при решении задач на нахождение длины отрезка, длины окружности, длины дуги окружности, градусной меры угла;

2) вычислять длины линейных элементов фигур и их углы, используя формулы длины окружности и длины дуги окружности, формулы площадей фигур;

3) вычислять площади треугольников, прямоугольников, параллелограммов, трапеций, кругов и секторов;

4) вычислять длину окружности, длину дуги окружности;

5) решать задачи на доказательство с использованием формул длины окружности и длины дуги окружности, формул площадей фигур;

6) решать практические задачи, связанные с нахождением геометрических величин (используя при необходимости справочники и технические средства).

Обучающийся получит возможность:

7) вычислять площади фигур, составленных из двух или более прямоугольников, параллелограммов, треугольников, круга и сектора;

8) вычислять площади многоугольников, используя отношения равновеликости и равносоставленности;

9) приобрести опыт применения алгебраического и тригонометрического аппарата и идей движения при решении задач на вычисление площадей многоугольников.

ОПИСАНИЕ МЕСТА УЧЕБНОГО ПРЕДМЕТА В УЧЕБНОМ ПЛАНЕ

На изучение геометрии в 8 классе отводится 34 учебные недели при 2 часах в неделю ,всего 170 часов.

На уроках геометрии по мере изучения соответствующих тем проводится работа по подготовке к ОГЭ, отрабатываются навыки решения заданий итоговой аттестации.

СОДЕРЖАНИЕ УЧЕБНОГО ПРЕДМЕТА

№ §	Содержание материала	Кол-во час
	Повторение курса геометрии 7 класса	2
	Глава V. Четырехугольники (14ч)	
1	Многоугольники	2
2	Параллелограмм и трапеция	6
3	Прямоугольник. Ромб. Квадрат	4
4	Решение задач	1
	Контрольная работа №1	1
	Глава VI. Площадь (14 ч)	
1	Площадь многоугольника	2
2	Площади параллелограмма, треугольника и трапеции	6
3	Теорема Пифагора	3
4	Решение задач	2
	Контрольная работа №2	1
	Глава VII. Подобные треугольники (19 ч)	
1	Определение подобных треугольников	2
2	Признаки подобия треугольников	5
	Контрольная работа №3	1
3	Применение подобия к доказательству теорем и решению задач	7

4	Соотношения между сторонами и углами прямоугольного треугольника	3
	<i>Контрольная работа №4</i>	1
	Глава VIII. Окружность (17 ч)	
1	Касательная к окружности	3
2	Центральные и вписанные углы	4
3	Четыре замечательные точки треугольника	3
4	Вписанная и описанная окружности	4
	Решение задач	2
	<i>Контрольная работа № 5</i>	1
	Повторение. Решение задач	2
ИТОГО		68

Четырехугольники. Многоугольник, выпуклый многоугольник, четырехугольник. Сумма углов выпуклого многоугольника. Вписанные и описанные многоугольники. Правильные многоугольники. Параллелограмм, его свойства и признаки. Прямоугольник, квадрат, ромб, их свойства и признаки. Трапеция, средняя линия трапеции; равнобедренная трапеция. Осевая и центральная симметрия.

Площадь. Понятие площади многоугольника. Площади прямоугольника, параллелограмма, треугольника, трапеции. Теорема Пифагора.

Подобные треугольники. Подобные треугольники. Признаки подобия треугольников. Применение подобия к доказательству теорем и решению задач. Синус, косинус и тангенс острого угла прямоугольного треугольника.

Окружность. Взаимное расположение прямой и окружности. Касательная к окружности, ее свойство и признак. Центральные, вписанные углы; величина вписанного угла; двух окружностей; равенство касательных, проведенных из одной точки. Метрические соотношения в окружности: свойства секущих, касательных, хорд. Окружность, вписанная в треугольник, и окружность, описанная около треугольника. Вписанные и описанные четырехугольники. Вписанные и описанные окружности правильного многоугольника.

КАЛЕНДАРНО-ТЕМАТИЧЕСКОЕ ПЛАНИРОВАНИЕ

№ п/п	Дата		Тема раздела, тема урока	Кол-во часов	Планируемые результаты				примечание	
	План	Факт			предметные	личностные	метапредметные универсальных учебных действий (УУД)			
							познавательные	регулятивные		коммуникативные
1			Повторение	1	знать и уметь применять теоремы о треугольниках при решении простейших задач	Выражать положительное отношение к процессу познания; применять правила делового сотрудничества; оценивать свою учебную деятельность	Передают содержание в сжатом виде	Определение цели УД; работа по составленному плану.	Уметь отстаивать точку зрения, аргументировать	
2			Повторение	1	знать и уметь применять признаки и свойства параллельных прямых при решении простейших задач	Применяют правила делового сотрудничества; оценивание своей учебной деятельности; выражают положит. отношение к процессу познания	– записывают правила «если...то...»; Передают содержание в сжатом виде.	Определение цели УД; работа по составленному плану.	Уметь отстаивать точку зрения, аргументировать	
Глава V. Четырехугольники (14ч)										
3			Многоугольники	1	<i>Уметь</i> объяснить, какая фигура называется многоугольником, назвать его элементы; <i>знать</i> , что такое периметр многоугольника, какой	Осознают роль ученика, осваивают личностный смысл учения	Обрабатывают информацию и передают ее устным, письменным и символическими способами	Выделяют и осознают то, что уже усвоено и что еще подлежит усвоению	Формулируют собственное мнение и позицию, задают вопросы, слушают собеседника	

4			Многоугольники	1	<p>многоугольник называется выпуклым; <i>уметь</i> вывести формулу суммы углов выпуклого многоугольника и решать задачи типа 364 – 370. <i>Уметь</i> находить углы многоугольников, их периметры.</p>	<p>Проявляют интерес к креативной деятельности, активности при подготовке иллюстраций изучаемых понятий</p>	<p>Обрабатывают информацию и передают ее устным, графическим, письменным и символьным способами</p>	<p>Критически оценивают полученный ответ, осуществляют самоконтроль, проверяя ответ на соответствие условию</p>	<p>Дают адекватную оценку своему мнению</p>	
5			Параллелограмм	1	<p><i>Знать</i> о параллелограмме и трапеции, виды трапеций, формулировки свойств и признаков параллелограмма и равнобедренной трапеции, <i>уметь</i> их доказывать</p>	<p>Осуществляют выбор действий в однозначных и неоднозначных ситуациях, комментируют и оценивают свой выбор</p>	<p>Владеют смысловым чтением. Представляют информацию в разных формах (текст, графика, символы)</p>	<p>Оценивают степень и способы достижения цели в учебных ситуациях, исправляют ошибки с помощью учителя</p>	<p>Приводят аргументы в пользу своей точки зрения, подтверждают ее фактами</p>	
6			Признаки параллелограмма	1	<p>и применять при решении задач типа 372 – 377, 379 – 383, 390.</p> <p><i>Уметь</i> выполнять деление отрезка на n равных частей с помощью циркуля и линейки; используя свойства параллелограмма и равнобедренной трапеции <i>уметь</i> доказывать некоторые утверждения.</p>	<p>Осваивают культуру работы с учебником, поиска информации</p>	<p>Устанавливают аналогии для понимания закономерностей, используют их в решении задач</p>	<p>Исследуют ситуации, требующие оценки действия в соответствии с поставленной задачей</p>	<p>Отстаивают свою точку зрения, подтверждают фактами</p>	
7			Решение задач по теме «Параллелограмм».	1		<p>Понимают обсуждаемую информацию, смысл данной информации в собственной жизни</p>	<p>Представляют информацию в разных формах (текст, графика, символы)</p>	<p>Самостоятельно составляют алгоритм деятельности при решении учебной задачи</p>	<p>Своевременно оказывают необходимую взаимопомощь сверстникам</p>	
8			Трапеция.	1		<p>Создают образ целостного мировоззрения при решении математических задач</p>	<p>Обрабатывают информацию и передают ее устным, письменным и графическим способами</p>	<p>Исследуют ситуации, требующие оценки действия в соответствии с поставленной задачей</p>	<p>Своевременно оказывают необходимую взаимопомощь сверстникам</p>	

9			Теорема Фалеса.	1	<i>Уметь</i> выполнять задачи на построение четырехугольников	Осознают роль ученика, осваивают личностный смысл учения	Устанавливают аналогии для понимания закономерностей, используют их в решении задач	Самостоятельно составляют алгоритм деятельности при решении учебной задачи	Сотрудничают с одноклассниками при решении задач; умеют выслушать оппонента. Формулируют выводы	
10			Задачи на построение	1		Осваивают культуру работы с учебником, поиска информации	Находят в учебниках, в т.ч. используя ИКТ, достоверную информацию, необходимую для решения задач	Исследуют ситуации, требующие оценки действия в соответствии с поставленной задачей	Приводят аргументы в пользу своей точки зрения, подтверждают ее фактами	
11			Прямоугольник.	1	<i>Знать</i> определения частных видов параллелограмма: прямоугольника, ромба и квадрата, формулировки их свойств и признаков. <i>Уметь</i> доказывать изученные теоремы и применять их при решении задач типа 401 – 415.	Проявляют познавательную активность, творчество	Осуществляют сравнение, извлекают необходимую информацию, переформулируют условие, строят логическую цепочку	Работая по плану, сверяют свои действия с целью, вносят корректировки	Сотрудничают с одноклассниками при решении задач; умеют выслушать оппонента. Формулируют выводы	
12			Ромб. Квадрат	1	<i>Знать</i> определения симметричных точек и фигур относительно прямой и точки. <i>Уметь</i> строить симметричные точки и распознавать фигуры, обладающие осевой симметрией и центральной симметрией.	Проявляют познавательную активность, творчество	Осуществляют сравнение, извлекают необходимую информацию, переформулируют условие, строят логическую цепочку	Работая по плану, сверяют свои действия с целью, вносят корректировки	Сотрудничают с одноклассниками при решении задач; умеют выслушать оппонента. Формулируют выводы	
13			Решение задач	1		Понимают обсуждаемую информацию, смысл данной информации в собственной жизни	Обрабатывают информацию и передают ее устным, письменным и графическим способами	Исследуют ситуации, требующие оценки действия в соответствии с поставленной задачей	Своевременно оказывают необходимую взаимопомощь сверстникам	

14			Осевая и центральная симметрии	1		Понимают обсуждаемую информацию, смысл данной информации в собственной жизни	Обрабатывают информацию и передают ее устным, письменным и графическим способами	Работая по плану, сверяют свои действия с целью, вносят корректировки	Формулируют собственное мнение и позицию, задают вопросы, слушают собеседника	
15			Решение задач	1		Проявляют познавательную активность, творчество	Находят в учебниках, в т.ч. используя ИКТ, достоверную информацию, необходимую для решения задач	Исследуют ситуации, требующие оценки действия в соответствии с поставленной задачей	Своевременно оказывают необходимую взаимопомощь сверстникам	
16			Контрольная работа №1 по теме: «Четырёхугольники»	1	<i>Уметь</i> применять все изученные формулы и теоремы при решении задач	Адекватно оценивают результаты работы с помощью критериев оценки	Применяют полученные знания при решении различного вида задач	Самостоятельно контролируют своё время и управляют им	С достаточной полнотой и точностью выражают свои мысли посредством письменной речи	

Глава VI. Площадь (14 ч)

17			Площадь многоугольника.	1	<i>Знать</i> основные свойства площадей и формулу для вычисления площади прямоугольника. <i>Уметь</i> вывести формулу для вычисления	Проявляют интерес к креативной деятельности, активности при подготовке иллюстраций изучаемых понятий	Восстанавливают предметную ситуацию, описанную в задаче, переформулируют условие, извлекать необходимую информацию	Оценивают степень и способы достижения цели в учебных ситуациях, исправляют ошибки с помощью учителя	Формулируют собственное мнение и позицию, задают вопросы, слушают собеседника	
18			Площадь многоугольника.	1	площади прямоугольника и использовать ее при решении задач типа 447 – 454, 457.	Демонстрируют мотивацию к познавательной деятельности	Обрабатывают информацию и передают ее устным, письменным, графическим и символическими способами	Критически оценивают полученный ответ, осуществляют самоконтроль, проверяя ответ на соответствие условию	Проектируют и формируют учебное сотрудничество с учителем и сверстниками	

19			Площадь параллелограмма	1	<i>Знать</i> формулы для вычисления площадей параллелограмма, треугольника и трапеции;	Осознают роль ученика, осваивают личностный смысл учения	Устанавливают аналогии для понимания закономерностей, используют их в решении задач	Исследуют ситуации, требующие оценки действия в соответствии с поставленной задачей	Отстаивают свою точку зрения, подтверждают фактами	
20		Площадь треугольника	1	<i>уметь</i> их доказывать, а также <i>знать</i> теорему об отношении площадей треугольников, имеющих по равному углу, и		Создают образ целостного мировоззрения при решении математических задач	Применяют полученные знания при решении различного вида задач	Планируют алгоритм выполнения задания, корректируют работу по ходу выполнения с помощью учителя и ИКТ средств	Предвидят появление конфликтов при наличии различных точек зрения. Принимают точку зрения другого	
21		Площадь треугольника	1	<i>уметь</i> применять все изученные формулы при решении задач типа 459 – 464, 468 – 472, 474.		Демонстрируют мотивацию к познавательной деятельности	Строят логически обоснованное рассуждение, включающее установление причинно-следственных связей	Работая по плану, сверяют свои действия с целью, вносят корректировки	Сотрудничают с одноклассниками при решении задач; умеют выслушать оппонента. Формулируют выводы	
22		Площадь трапеции	1			Грамотно и аргументировано излагают свои мысли, проявляют уважительное отношение к мнениям других людей	Структурируют знания, определяют основную и второстепенную информацию	Работают по плану, сверяясь с целью, корректируют план	Приводят аргументы в пользу своей точки зрения, подтверждают ее фактами	
23		Решение задач на вычисление площадей фигур	1	<i>Уметь</i> применять все изученные формулы при		Понимают обсуждаемую информацию, смысл данной информации в собственной жизни	Устанавливают аналогии для понимания закономерностей, используют их при решении задач	Самостоятельно составляют алгоритм деятельности при решении учебной задачи	Проектируют и формируют учебное сотрудничество с учителем и сверстниками	

24			Решение задач на вычисление площадей фигур	1	решении задач, в устной форме доказывать теоремы и излагать необходимый теоретический материал.	Осознают роль ученика, осваивают личностный смысл учения	Осуществляют сравнение, извлекают необходимую информацию, переформулируют условие, строят логическую цепочку	Выделяют и осознают то, что уже усвоено и что еще подлежит усвоению	Формулируют собственное мнение и позицию, задают вопросы, слушают собеседника	
25			Теорема Пифагора	1	<i>Знать</i> теорему Пифагора и обратную ей теорему, область применения, пифагоровы тройки.	Демонстрируют мотивацию к познавательной деятельности	Находят в учебниках, в т.ч. используя ИКТ, достоверную информацию, необходимую для решения задач	Оценивают степень и способы достижения цели в учебных ситуациях, исправляют ошибки с помощью учителя	Приводят аргументы в пользу своей точки зрения, подтверждают ее фактами	
26		Теорема, обратная теореме Пифагора.	1	Осваивают культуру работы с учебником, поиска информации		Обрабатывают информацию и передают ее устным, письменным и символьным способами	Работают по плану, сверяясь с целью, корректируют план	Проектируют и формируют учебное сотрудничество с учителем и сверстниками		
27		Решение задач	1	Проявляют мотивацию к познавательной деятельности при решении задач с практическим содержанием		Владеют смысловым чтением	Выбирают действия в соответствии с поставленной задачей и условиями ее реализации, самостоятельно оценивают результат	Отстаивают свою точку зрения, подтверждают фактами		
28		Решение задач	1	<i>Уметь</i> доказывать теоремы и применять их при решении задач типа 483 – 499 (находить неизвестную величину в прямоугольном треугольнике).		Проявляют интерес к креативной деятельности, активности при подготовке иллюстраций изучаемых понятий	Анализируют (в т.ч. выделяют главное, разделяют на части) и обобщают	Критически оценивают полученный ответ, осуществляют самоконтроль, проверяя ответ на соответствие условию	Предвидят появление конфликтов при наличии различных точек зрения. Принимают точку зрения другого	
29			Контрольная работа №2 по теме: «Площади»	1	<i>Уметь</i> применять все изученные формулы и теоремы при решении задач	Адекватно оценивают результаты работы с помощью критериев оценки	Применяют полученные знания при решении различного вида задач	Самостоятельно контролируют своё время и управляют им	С достаточной полнотой и точностью выражают свои мысли посредством письменной речи	

Глава VII. Подобные треугольники (19 ч)

30			Определение подобных треугольников.	1	<p><i>Знать</i> определения пропорциональных отрезков и подобных треугольников, теорему об отношении подобных треугольников и свойство биссектрисы треугольника (задача 535). <i>Уметь</i> определять подобные треугольники, находить неизвестные величины из пропорциональных отношений, применять теорию при решении задач типа 535 – 538, 541.</p>	Проявляют познавательную активность, творчество. Адекватно оценивают результаты работы с помощью критериев оценки	Анализируют и сравнивают факты и явления	Работая по плану, сверяют свои действия с целью, вносят корректировки	Своевременно оказывают необходимую взаимопомощь сверстникам	
31			Отношение площадей подобных треугольников.	1		Осуществляют выбор действий в однозначных и неоднозначных ситуациях, комментируют и оценивают свой выбор	Владеют смысловым чтением	Самостоятельно составляют алгоритм деятельности при решении учебной задачи	Верно используют в устной и письменной речи математические термины.	
32			Первый признак подобия треугольников.	1	<p><i>Знать</i> признаки подобия треугольников, определение пропорциональных отрезков.</p>	Проявляют мотивацию к познавательной деятельности при решении задач с практическим содержанием	Строят логически обоснованное рассуждение, включающее установление причинно-следственных связей	Применяют установленные правила в планировании способа решения	Приводят аргументы в пользу своей точки зрения, подтверждают ее фактами	
33			Решение задач на применение первого признака подобия треугольников.	1		Осваивают культуру работы с учебником, поиска информации	Восстанавливают предметную ситуацию, описанную в задаче, переформулируют условие, извлекают необходимую информацию	Оценивают степень и способы достижения цели в учебных ситуациях, исправляют ошибки с помощью учителя	Верно используют в устной и письменной речи математические термины. Различают в речи собеседника аргументы и факты	
34			Второй и третий признаки подобия треугольников.	1		Осваивают культуру работы с учебником, поиска информации	Применяют полученные знания при решении различного вида задач	Прилагают волевые усилия и преодолевают трудности и препятствия на пути достижения целей	Дают адекватную оценку своему мнению	

35			Решение задач на применение признаков подобия треугольников.	1	<i>Уметь</i> доказывать признаки подобия и применять их при р/з550 – 555, 559 – 562	Адекватно оценивают результаты работы с помощью критериев оценки	Находят в учебниках, в т.ч. используя ИКТ, достоверную информацию, необходимую для решения задач	Оценивают степень и способы достижения цели в учебных ситуациях, исправляют ошибки с помощью учителя	С достаточной полнотой и точностью выражают свои мысли посредством письменной речи	
36			Решение задач на применение признаков подобия треугольников	1		Проявляют интерес к креативной деятельности, активности при подготовке иллюстраций изучаемых понятий	Восстанавливают предметную ситуацию, описанную в задаче, переформулируют условие, извлекать необходимую информацию	Оценивают степень и способы достижения цели в учебных ситуациях, исправляют ошибки с помощью учителя	Формулируют собственное мнение и позицию, задают вопросы, слушают собеседника	
37			Контрольная работа № 3 по теме «Подобные треугольники»	1	<i>Уметь</i> применять все изученные формулы и теоремы при решении задач	Адекватно оценивают результаты работы с помощью критериев оценки	Применяют полученные знания при решении различного вида задач	Самостоятельно контролируют своё время и управляют им	С достаточной полнотой и точностью выражают свои мысли посредством письменной речи	
38			Средняя линия треугольника	1	<i>Знать</i> теоремы о средней линии треугольника, точке пересечения медиан треугольника и пропорциональных отрезках в прямоугольном треугольнике.	Демонстрируют мотивацию к познавательной деятельности	Обрабатывают информацию и передают ее устным, письменным, графическим и символьным способами	Критически оценивают полученный ответ, осуществляют самоконтроль, проверяя ответ на соответствие условию	Проектируют и формируют учебное сотрудничество с учителем и сверстниками	
39		Средняя линия треугольника	1	Осознают роль ученика, осваивают личностный смысл учения		Устанавливают аналогии для понимания закономерностей, используют их в решении задач	Исследуют ситуации, требующие оценки действия в соответствии с поставленной задачей	Отстаивают свою точку зрения, подтверждают фактами		
40		Свойство медиан треугольника	1	<i>Уметь</i> доказывать эти теоремы и применять при решении задач типа 567, 568,		Создают образ целостного мировоззрения при решении математических задач	Применяют полученные знания при решении различного вида задач	Планируют алгоритм выполнения задания, корректируют работу по ходу выполнения с помощью учителя и ИКТ средств	Предвидят появление конфликтов при наличии различных точек зрения. Принимают точку зрения другого	

41			Пропорциональные отрезки	1	570, 572 – 577, а также <i>уметь</i> с помощью циркуля и линейки делить отрезок в данном отношении и решать задачи на построение типа 586 – 590.	Демонстрируют мотивацию к познавательной деятельности	Строят логически обоснованное рассуждение, включающее установление причинно-следственных связей	Работая по плану, сверяют свои действия с целью, вносят корректировки	Сотрудничают с одноклассниками при решении задач; умеют выслушать оппонента. Формулируют выводы		
42			Пропорциональные отрезки в прямоугольном треугольнике	1		Проявляют интерес к креативной деятельности, активности при подготовке иллюстраций изучаемых понятий	Восстанавливают предметную ситуацию, описанную в задаче, переформулируют условие, извлекать необходимую информацию	Оценивают степень и способы достижения цели в учебных ситуациях, исправляют ошибки с помощью учителя	Формулируют собственное мнение и позицию, задают вопросы, слушают собеседника		
43			Измерительные работы на местности.	1		Демонстрируют мотивацию к познавательной деятельности	Обрабатывают информацию и передают ее устным, письменным, графическим и символьным способами	Критически оценивают полученный ответ, осуществляют самоконтроль, проверяя ответ на соответствие условию	Проектируют и формируют учебное сотрудничество с учителем и сверстниками		
44			Задачи на построение методом подобия.	1		Осознают роль ученика, осваивают личностный смысл учения	Устанавливают аналогии для понимания закономерностей, используют их в решении задач	Исследуют ситуации, требующие оценки действия в соответствии с поставленной задачей	Отстаивают свою точку зрения, подтверждают фактами		
45			Синус, косинус и тангенс острого угла прямоугольного треугольника	1		<i>Знать</i> определения синуса, косинуса и тангенса острого угла прямоугольного треугольника, значения синуса, косинуса и тангенса для углов 30° , 45° и 60° , метрические соотношения.	Создают образ целостного мировоззрения при решении математических задач	Применяют полученные знания при решении различного вида задач	Планируют алгоритм выполнения задания, корректируют работу по ходу выполнения с помощью учителя и ИКТ средств	Предвидят появление конфликтов при наличии различных точек зрения. Принимают точку зрения другого	
46			Значения синуса, косинуса и тангенса для углов 30° , 45° , 60°	1			Проявляют мотивацию к познавательной деятельности при решении задач с практическим содержанием	Строят логически обоснованное рассуждение, включающее установление причинно-следственных связей	Применяют установленные правила в планировании способа решения	Приводят аргументы в пользу своей точки зрения, подтверждают ее фактами	

47			Соотношения между сторонами и углами прямоугольного треугольника. Решение задач.	1	<i>Уметь</i> доказывать основное тригонометрическое тождество, решать задачи типа 591 – 602.	Осваивают культуру работы с учебником, поиска информации	Восстанавливают предметную ситуацию, описанную в задаче, переформулируют условие, извлекать необходимую информацию	Оценивают степень и способы достижения цели в учебных ситуациях, исправляют ошибки с помощью учителя	Верно используют в устной и письменной речи математические термины. Различают в речи собеседника аргументы и факты	
48			Контрольная работа №4 по теме: «Соотношения между сторонами и углами прямоугольного треугольника»	1	<i>Уметь</i> применять все изученные формулы, значения синуса, косинуса, тангенса, метрические отношения при решении задач	Адекватно оценивают результаты работы с помощью критериев оценки	Применяют полученные знания при решении различного вида задач	Самостоятельно контролируют своё время и управляют им	С достаточной полнотой и точностью выражают свои мысли посредством письменной речи	
Глава VIII. Окружность (17 ч)										
49			Взаимное расположение прямой и окружности.	1	<i>Знать</i> , какой угол называется центральным и какой вписанным, как определяется градусная мера дуги окружности, теорему о вписанном угле, следствия из нее и теорему о произведении отрезков пересекающихся хорд.	Проявляют интерес к креативной деятельности, активности при подготовке иллюстраций изучаемых понятий	Восстанавливают предметную ситуацию, описанную в задаче, переформулируют условие, извлекать необходимую информацию	Оценивают степень и способы достижения цели в учебных ситуациях, исправляют ошибки с помощью учителя	Формулируют собственное мнение и позицию, задают вопросы, слушают собеседника	
50			Касательная к окружности.	1		Демонстрируют мотивацию к познавательной деятельности	Обработывают информацию и передают ее устным, письменным, графическим и символическими способами	Критически оценивают полученный ответ, осуществляют самоконтроль, проверяя ответ на соответствие условию	Проектируют и формируют учебное сотрудничество с учителем и сверстниками	

51			Касательная к окружности. Решение задач.	1	<p><i>Уметь</i> доказывать эти теоремы и применять при решении задач типа 651 – 657, 659, 666</p> <p><i>Знать</i>, какой угол называется центральным и какой вписанным, как определяется градусная мера дуги окружности, теорему о вписанном угле, следствия из нее и теорему о произведении отрезков пересекающихся хорд.</p> <p><i>Уметь</i> доказывать эти теоремы и применять при решении задач типа 651 – 657, 659, 666</p>	Осознают роль ученика, осваивают личностный смысл учения	Устанавливают аналогии для понимания закономерностей, используют их в решении задач	Исследуют ситуации, требующие оценки действия в соответствии с поставленной задачей	Отстаивают свою точку зрения, подтверждают фактами	
52			Градусная мера дуги окружности	1		Создают образ целостного мировоззрения при решении математических задач	Применяют полученные знания при решении различного вида задач	Планируют алгоритм выполнения задания, корректируют работу по ходу выполнения с помощью учителя и ИКТ средств	Предвидят появление конфликтов при наличии различных точек зрения. Принимают точку зрения другого	
53			Теорема о вписанном угле	1		Демонстрируют мотивацию к познавательной деятельности	Строят логически обоснованное рассуждение, включающее установление причинно-следственных связей	Работая по плану, сверяют свои действия с целью, вносят корректировки	Сотрудничают с одноклассниками при решении задач; умеют выслушать оппонента. Формулируют выводы	
54			Теорема об отрезках пересекающихся хорд	1		Проявляют интерес к креативной деятельности, активности при подготовке иллюстраций изучаемых понятий	Восстанавливают предметную ситуацию, описанную в задаче, переформулируют условие, извлекают необходимую информацию	Оценивают степень и способы достижения цели в учебных ситуациях, исправляют ошибки с помощью учителя	Формулируют собственное мнение и позицию, задают вопросы, слушают собеседника	
55			Решение задач по теме «Центральные и вписанные углы»	1		Демонстрируют мотивацию к познавательной деятельности	Обработывают информацию и передают ее устным, письменным, графическим и символическим способами	Критически оценивают полученный ответ, осуществляют самоконтроль, проверяя ответ на соответствие условию	Проектируют и формируют учебное сотрудничество с учителем и сверстниками	

56			Свойство биссектрисы угла	1	<p><i>Знать</i> теоремы о биссектрисе угла и о серединном перпендикуляре к отрезку, их следствия, а также теорему о пересечении высот треугольника.</p> <p><i>Уметь</i> доказывать эти теоремы и применять их при решении задач типа 674 – 679, 682 – 686. <i>Уметь</i> выполнять построение замечательных точек треугольника.</p>	Осознают роль ученика, осваивают личностный смысл учения	Устанавливают аналогии для понимания закономерностей, используют их в решении задач	Исследуют ситуации, требующие оценки действия в соответствии с поставленной задачей	Отстаивают свою точку зрения, подтверждают фактами	
57			Серединный перпендикуляр	1		Создают образ целостного мировоззрения при решении математических задач	Применяют полученные знания при решении различного вида задач	Планируют алгоритм выполнения задания, корректируют работу по ходу выполнения с помощью учителя и ИКТ средств	Предвидят появление конфликтов при наличии различных точек зрения. Принимают точку зрения другого	
58			Теорема о точке пересечения высот треугольника.	1		Демонстрируют мотивацию к познавательной деятельности	Строят логически обоснованное рассуждение, включающее установление причинно-следственных связей	Работая по плану, сверяют свои действия с целью, вносят корректировки	Сотрудничают с одноклассниками при решении задач; умеют выслушать оппонента. Формулируют выводы	
59			Свойство биссектрисы угла	1		Проявляют познавательную активность, творчество. Адекватно оценивают результаты работы с помощью критериев оценки	Анализируют и сравнивают факты и явления	Работая по плану, сверяют свои действия с целью, вносят корректировки	Своевременно оказывают необходимую взаимопомощь сверстникам	
60			Серединный перпендикуляр	1	Осуществляют выбор действий в однозначных и неоднозначных ситуациях, комментируют и оценивают свой выбор	Владеют смысловым чтением	Самостоятельно составляют алгоритм деятельности при решении учебной задачи	Верно используют в устной и письменной речи математические термины.		

61			Теорема о точке пересечения высот треугольника	1	также теорему о пересечении высот треугольника. <i>Уметь</i> доказывать эти теоремы и применять их при решении задач типа 674 – 679, 682 – 686. <i>Уметь</i> выполнять построение замечательных точек треугольника.	Проявляют мотивацию к познавательной деятельности при решении задач с практическим содержанием	Строят логически обоснованное рассуждение, включающее установление причинно-следственных связей	Применяют установленные правила в планировании способа решения	Приводят аргументы в пользу своей точки зрения, подтверждают ее фактами	
62			Вписанная окружность	1	<i>Знать</i> , какая окружность называется вписанной в многоугольник и какая описанной около многоугольника, теоремы об	Проявляют мотивацию к познавательной деятельности при решении задач с практическим содержанием	Строят логически обоснованное рассуждение, включающее установление причинно-следственных связей	Применяют установленные правила в планировании способа решения	Приводят аргументы в пользу своей точки зрения, подтверждают ее фактами	
63			Свойство описанного четырехугольника.	1	окружности, вписанной в треугольник, и об окружности, описанной около треугольника, свойства вписанного и описанного четырехугольников.	Осваивают культуру работы с учебником, поиска информации	Восстанавливают предметную ситуацию, описанную в задаче, переформулируют условие, извлекать необходимую информацию	Оценивают степень и способы достижения цели в учебных ситуациях, исправляют ошибки с помощью учителя	Верно используют в устной и письменной речи математические термины. Различают в речи собеседника аргументы и факты	
64			Решение задач по теме «Окружность».	1	<i>Уметь</i> доказывать эти теоремы и применять при решении задач типа 689 – 696, 701 – 711.	Осваивают культуру работы с учебником, поиска информации	Применяют полученные знания при решении различного вида задач	Прилагают волевые усилия и преодолевают трудности и препятствия на пути достижения целей	Дают адекватную оценку своему мнению	
65			Решение задач по теме «Окружность».	1		Осваивают культуру работы с учебником, поиска информации	Применяют полученные знания при решении различного вида задач	Прилагают волевые усилия и преодолевают трудности и препятствия на пути достижения целей	Дают адекватную оценку своему мнению	

66			Контрольная работа № 5 по теме: «Окружность»	1	Уметь применять все изученные теоремы при решении задач.	Адекватно оценивают результаты работы с помощью критериев оценки	Применяют полученные знания при решении различного вида задач	Самостоятельно контролируют своё время и управляют им	С достаточной полнотой и точностью выражают свои мысли посредством письменной речи	
67			Повторение.	1	Систематизируют и обобщают изученный материал	Осваивают культуру работы с учебником, поиска информации	Применяют полученные знания при решении различного вида задач	Работая по плану, сверяют свои действия с целью, вносят корректировки	Дают адекватную оценку своему мнению	
68			Повторение.	1	Систематизируют и обобщают изученный материал	Осваивают культуру работы с учебником, поиска информации	Применяют полученные знания при решении различного вида задач	Работая по плану, сверяют свои действия с целью, вносят корректировки	Дают адекватную оценку своему мнению	

Приложение

Контрольные работы по геометрии в 8 классе по УМК Атанасян и др.

К-1. Контрольная работа по теме «Четырехугольники»:

Вариант 1

1. Периметр параллелограмма 50 см. Одна из его сторон на 5 см больше другой. Найдите длины сторон параллелограмма.
2. Найдите угол между диагоналями прямоугольника, если каждая из них делит угол прямоугольника в отношении 4 : 5.

3. Найдите углы параллелограмма, если одна из его диагоналей является высотой и равна одной из его сторон.
4. В трапеции $ABCD$ диагональ BD перпендикулярна боковой стороне AB , $\angle ADB = \angle BDC = 30^\circ$. Найдите длину AD , если периметр трапеции 60 см.
5. * В параллелограмме $ABCD$ биссектрисы углов ABC и BCD пересекаются в точке M_1 . На прямых AB и CD взяты точки K и P так, что $A - B - K$, $D - C - P$. Биссектрисы углов KBC и BCP пересекаются в точке M_2 , $M_1M_2 = 8$ см. Найдите AD .

Вариант 2

1. Периметр параллелограмма 60 см. Одна из его сторон на 6 см меньше другой. Найдите длины сторон параллелограмма.
2. Угол между диагоналями прямоугольника равен 80° . Найдите угол между диагональю и меньшей стороной прямоугольника.
3. Найдите углы параллелограмма, если одна из его диагоналей является высотой и равна половине перпендикулярной к ней стороны параллелограмма.
4. В трапеции $ABCD$ диагональ AC перпендикулярна боковой стороне CD и является биссектрисой угла A . Найдите длину AB , если периметр трапеции равен 35 см, $\angle D = 60^\circ$.
5. * В параллелограмме $ABCD$ $AD = 6$ см. Биссектрисы углов ABC и BCD пересекаются в точке M_1 . На прямых AB и CD взяты точки K и P так, что $A - B - K$, $D - C - P$. Биссектрисы углов KBC и BCP пересекаются в точке M_2 . Найдите M_1M_2 .

К-2. Контрольная работа по теме «Площадь»:

Вариант 1

1. Смежные стороны параллелограмма равны 52 см и 30 см, а острый угол равен 30° . Найдите площадь параллелограмма.
2. Вычислите площадь трапеции $ABCD$ с основаниями AD и BC , если $AD = 24$ см, $BC = 16$ см, $\angle A = 45^\circ$, $\angle D = 90^\circ$.
3. Дан треугольник ABC . На стороне AC отмечена точка S так, что $AK = 6$ см, $CS = 9$ см. Найдите площади треугольников ABK и CBK , если $AB = 13$ см, $BC = 14$ см.
4. * Высота равностороннего треугольника равна 6 см. Найдите сумму расстояний от произвольной точки, взятой внутри этого треугольника, до его сторон.

Вариант 2

1. Высота BK , проведенная к стороне AD параллелограмма $ABCD$, делит эту сторону на два отрезка $AK = 7$ см, $KD = 15$ см. Найдите площадь параллелограмма, если $\angle A = 45^\circ$.
2. Вычислите площадь трапеции $ABCD$ с основаниями AD и BC , если $BC = 13$ см, $AD = 27$ см, $CD = 10$ см, $\angle D = 30^\circ$.
3. Дан треугольник MKP . На стороне MK отмечена точка T так, что $MT = 5$ см, $KT = 10$ см. Найдите площади треугольников MPT и KPT , если $MP = 12$ см, $KP = 9$ см.
4. * В равностороннем треугольнике большая сторона составляет 75% суммы двух других. Точка M , принадлежащая этой стороне, является концом биссектрисы треугольника. Найдите расстояние от точки M до меньшей стороны треугольника, если меньшая высота треугольника равна 4 см.

К-3. Контрольная работа по теме «Признаки подобия треугольников»:

Вариант 1

1. Дано: $\angle A = \angle B$, $CO = 4$, $DO = 6$, $AO = 5$ (рис. 7.54). Найти: а) OB , б) AC , BD ; в) S_{AOC} , S_{BOD} .
2. В треугольнике ABC $AB = 4$ см, $BC = 7$ см, $AC = 6$ см, а в треугольнике MNK $MK = 8$ см, $MN = 12$ см, $KN = 14$ см. Найдите углы треугольника MNK , если $\angle A = 80^\circ$, $\angle B = 60^\circ$.
3. Прямая пересекает стороны треугольника ABC в точках M и K соответственно так, что $MK \parallel AC$, $BM : AM = 1 : 4$. Найдите периметр треугольника BMK , если периметр треугольника ABC равен 25 см.
4. * В трапеции $ABCD$ (AD и BC основание) диагонали пересекаются в точке O , $AD = 12$ см, $BC = 4$ см. Найдите площадь треугольника BOC , если площадь треугольника AOD равна 45 см^2 .

Вариант 2

1. Дано: $PE \parallel NK$, $MP = 8$, $MN = 12$, $ME = 6$ (рис. 7.55). Найти: а) MK ; б) $PE : NK$; в) $S_{MPE} : S_{MNK}$.
2. В $\triangle ABC$ $AB = 12$ см, $BC = 18$ см, $\angle B = 70^\circ$, а в $\triangle MNK$ $MN = 6$ см, $NK = 9$ см, $\angle N = 70^\circ$. Найдите сторону AC и угол C треугольника ABC , если $MK = 7$ см, $\angle K = 60^\circ$.
3. Отрезки AB и CD пересекаются в точке O так, что $\angle ACO = \angle BDO$, $AO : OB = 2:3$. Найдите периметр треугольника ACO , если периметр треугольника BOD равен 21 см.
4. * В трапеции $ABCD$ (AD и BC основания) диагонали пересекаются в точке O , $S_{AOD} = 32 \text{ см}^2$, $S_{BOC} = 8 \text{ см}^2$. Найдите меньшее основание трапеции, если большее из них равно 10 см.

К-4. Контрольная работа по теме «Применение теории подобия к решению задач. Соотношения между сторонами и углами прямоугольного треугольника».

Вариант 1

1. Средние линии треугольника относятся как $2 : 3 : 4$, а периметр треугольника равен 45 см. Найдите стороны треугольника.
2. Медианы треугольника ABC пересекаются в точке O . Через точку O проведена прямая, параллельная стороне AC и пересекающая стороны AB и BC в точках E и F соответственно. Найдите EF , если сторона AC равна 15 см.
3. В прямоугольном треугольнике ABC ($\angle C = 90^\circ$) $AC = 5$ см, $BC = 5\sqrt{3}$ см. Найдите угол B и гипотенузу AB .
4. В треугольнике ABC $\angle A = \alpha$, $\angle C = \beta$, сторона $BC = 7$ см, BH — высота. Найдите AH .
5. * В трапеции $ABCD$ продолжения боковых сторон пересекаются в точке K , причем точка B — середина отрезка AK . Найдите сумму оснований трапеции, если $AD = 12$ см.

Вариант 2

1. Стороны треугольника относятся как $4 : 5 : 6$, а периметр треугольника равен 30 см. Найдите средние линии треугольника.
2. Медианы треугольника MNK пересекаются в точке O . Через точку O проведена прямая, параллельная стороне MK и пересекающая стороны MN и NK в точках A и B соответственно. Найдите MK , если длина отрезка AB равна 12 см.
3. В прямоугольном треугольнике PKT ($\angle T = 90^\circ$), $PT = 7\sqrt{3}$ см, $KT = 7$ см. Найдите угол K и гипотенузу KP .
4. В треугольнике ABC $\angle A = \alpha$, $\angle C = \beta$, высота BH равна 4 см. Найдите AC .

5. * В трапеции MNKP продолжения боковых сторон пересекаются в точке E, причем $EK = KP$. Найдите разность оснований трапеции, если $NK = 7$ см.

К-5. Контрольная работа по теме «Окружность».

Вариант 1

1. AB и AC – отрезки касательных, проведенные к окружности радиусом 9 см. Найдите длины отрезков AC и AO , если $AB = 12$ см.

2. Дано: $\odot AB : \odot BC = 11 : 12$ (рис. 8.178).

Найти: $\angle BCA, \angle BAC$.

3. Хорды MN и PK пересекаются в точке E так, что $ME = 12$ см, $NE = 3$ см, $PE = KE$. Найдите PK .

4*. Окружность с центром O и радиусом 16 см описана около треугольника ABC так, что $\angle OAB = 30^\circ, \angle OCB = 45^\circ$. Найдите стороны AB и BC треугольника.

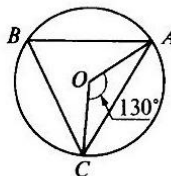


Рис. 8.178

Вариант 2

1. MN и MK – отрезки касательных, проведенные к окружности радиусом 5 см. Найдите MN и MK , если $MO = 13$ см.

2. Дано: $\odot AB : \odot AC = 5 : 3$ (рис. 8.179).

Найти: $\angle BOC, \angle ABC$.

3. Хорды AB и CD пересекаются в точке F так, что $AF = 4$ см, $BF = 16$ см, $CF = DF$. Найдите CD .

4*. Окружность с центром O и радиусом 12 см описана около треугольника MNK так, что $\angle MON = 120^\circ, \angle NOK = 90^\circ$. Найдите стороны MN и NK треугольника.

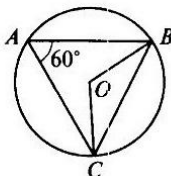


Рис. 8.179

К-6 «Итоговая контрольная работа» за курс 8 класса

Вариант 1

1. Боковая сторона равнобедренного треугольника равна 10 см, а его основание 12 см. Найдите его площадь.

2. Биссектриса угла A параллелограмма $ABCD$ делит сторону BC на отрезки BK и KC , равные соответственно 8 см и 4 см. Найдите периметр параллелограмма.

3. В трапеции $ABCD$ углы A и B прямые. Диагональ AC – биссектриса угла A и равна 6 см. Найдите площадь трапеции, если угол CDA равен 60° .

4. В окружности проведены две хорды AB и CD , пересекающиеся в точке K , $KC = 6$ см, $AK = 8$ см, $BK + DK = 28$ см. Найдите длины BK и DK .

5. Квадрат со стороной 8 см описан около окружности. Найдите площадь прямоугольного треугольника с острым углом 30° , вписанного в данную окружность.

Вариант 2

1. Боковая сторона равнобедренного треугольника равна 13 см, а его медиана, проведенная к основанию, равна 5 см. Найдите площадь и периметр треугольника.

2. Диагонали ромба равны 8 см и 6 см. Найдите периметр и площадь ромба.

3. В равнобедренной трапеции $ABCD$ диагональ AC перпендикулярна боковой стороне CD . Найдите площадь трапеции, если угол CAD равен 30° , $AD = 12$ см.

4. В окружности проведены две хорды AB и CD , пересекающиеся в точке M , $MB = 10$ см, $AM = 12$ см, $DC = 23$ см. Найдите длины CM и DM .

5. Прямоугольный треугольник с катетами 4 см вписан в окружность. Найдите площадь правильного шестиугольника, описанного около данной окружности.